



1 Flächeninhalte bestimmen und vergleichen

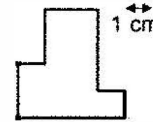
(7 Punkte)

- a) Wie groß ist der Fläche der abgebildeten Figur?

Gib die Größe der Fläche **an**.

Ergänze den Antwortsatz.

Die Fläche ist _____ cm^2 groß.

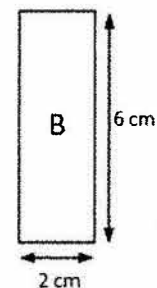
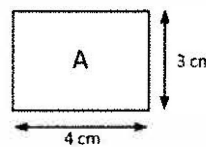


(1 P)

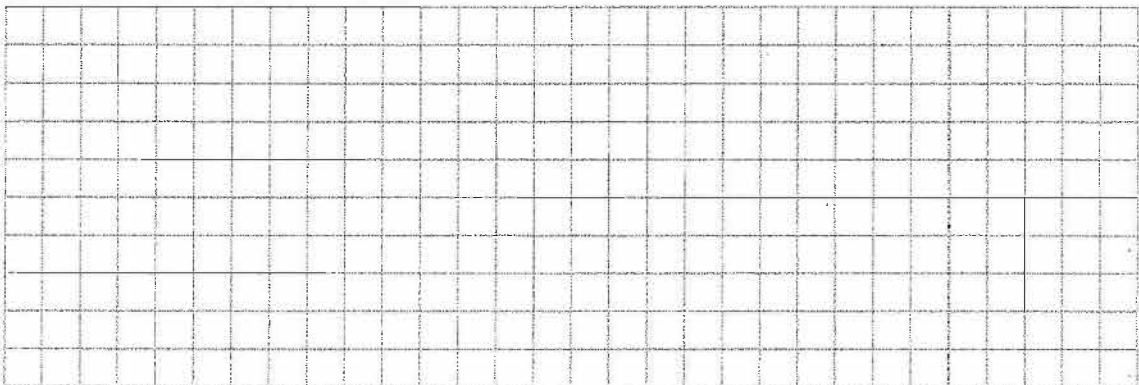
- b) Wie groß ist der Flächeninhalt von Rechteck A und von Rechteck B?

Notiere deinen Lösungsweg.

Ergänze den Antwortsatz.



(4 P)



Das Rechteck A ist _____ cm^2 groß und das Rechteck B ist _____ cm^2 groß.

Welches Rechteck ist größer?

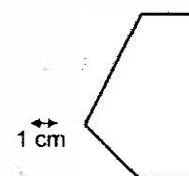
Kreuze an.

- Rechteck A ist größer.
- Rechteck B ist größer.
- Beide Rechtecke sind gleich groß.

- c) Wie groß ist der Flächeninhalt der abgebildeten Figur?

Gib die Größe der Fläche **an**.

Denke an die die Einheit.



(2 P)
